



Ali a 6 billes. 2 billes sont rouges.
Combien y-a-t-il de billes bleues ?




Réponse

.....


PRENOM :

LIVRET DE RESOLUTION DE PROBLEMES



GRANDE-SECTION - PERIODE 4
ECOLE MATERNELLE

Ali à 2 cubes. Marie lui donne 4 cubes.
Combien Ali a-t-il de cubes maintenant ?



A large empty rectangular box with a green border, intended for writing the answer. A small yellow pencil icon is in the top-left corner.

Réponse

.....

Isac a 2 cubes rouges. Ali a 8 cubes bleus.
Combien de cubes ont-ils en tout ?




A large empty rectangular box with an orange border, intended for writing the answer. A small yellow pencil icon is in the top-left corner.

Réponse

.....

Marie avait 4 cubes. Isac lui donne des cubes.
Maintenant elle en a 7. Combien de cubes a donné Isac ?





Réponse

.....

Ali a 5 animaux. Isac a 8 animaux. Qui a le moins
d'animaux ? Combien de moins ?






Réponse

.....

Marie a 7 animaux. Lila a 4 animaux de moins que Marie.
Combien d'animaux a Lila ?



Réponse

.....

Lila a perdu 2 billes. Maintenant elle a 5 billes.
Combien de billes Lila avait avant de jouer ?



Réponse

.....