


Ali a 9 billes. 6 billes sont rouges.
Combien y-a-t-il de billes bleues ?




Réponse

1	2	3	4	5	6	7	8	9	10
---	---	---	---	---	---	---	---	---	----

PRENOM :

LIVRET DE RESOLUTION DE PROBLEMES



GRANDE-SECTION - PERIODE 5
ECOLE MATERNELLE

Ali a 6 cubes. Marie lui donne 4 cubes.
Combien Ali a-t-il de cubes maintenant ?



Réponse

1	2	3	4	5	6	7	8	9	10
---	---	---	---	---	---	---	---	---	----


Isac a 4 cubes bleues. Ali a 5 cubes rouges.
Combien de cubes ont-ils en tout ?



Réponse

1	2	3	4	5	6	7	8	9	10
---	---	---	---	---	---	---	---	---	----

Marie a 3 cubes. Isac lui donne des cubes. Elle en a 8.
Combien de cubes a donné Isac ?



Réponse

1	2	3	4	5	6	7	8	9	10
---	---	---	---	---	---	---	---	---	----


Ali a 3 animaux. Isac a 7 animaux
Qui a le moins d'animaux ? Combien de moins ?



Réponse

1	2	3	4	5	6	7	8	9	10
---	---	---	---	---	---	---	---	---	----


Marie a 9 animaux. Lila a 3 animaux de moins que Marie.
Combien d'animaux a Lila ?



Réponse

1	2	3	4	5	6	7	8	9	10
---	---	---	---	---	---	---	---	---	----

Lila a perdu 3 billes. Maintenant elle a 7 billes.
Combien de billes Lila avait avant de jouer ?



Réponse

1	2	3	4	5	6	7	8	9	10
---	---	---	---	---	---	---	---	---	----